
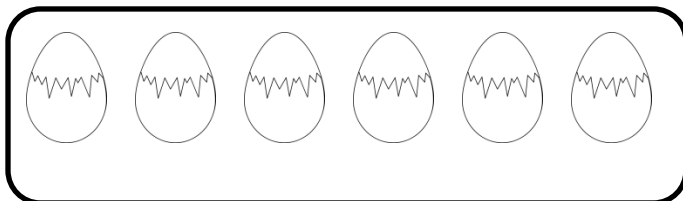


Numărul și cifra 5

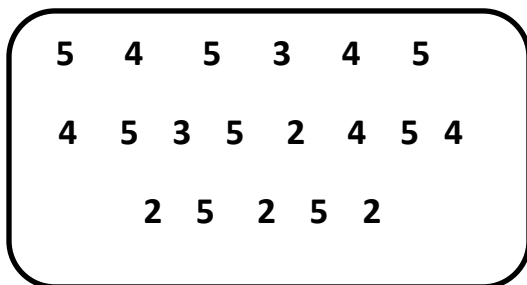
1) Trasează tot atâtea liniuțe câte elemente sunt în mulțimea dată.



2) Formează o mulțime cu cinci elemente.



3) Încercuiește cifra 5 de fiecare dată când o găsești.



4) Scrie cifra 5 după model.

